

تمرين رقم 1 ص 74 من الكتاب المدرسي مرشدي في الفيزياء والكيمياء

أجب بصحيح أو بخطأ على ما يلي :

(أ) عندما يتحقق الشرط $\Sigma \vec{F} = \vec{0}$ ولا يتحقق الشرط $\Sigma M_{\Delta} \vec{F} = 0$ يكون الجسم في حركة.(ب) يعتبر الشرطان $\Sigma \vec{F} = \vec{0}$ و $\Sigma M_{\Delta} \vec{F} = 0$ لازمين لتحقيق توازن جسيم صلب .**الإجابة**(أ) صحيح عندما يتحقق الشرط $\Sigma \vec{F} = \vec{0}$ ولا يتحقق الشرط $\Sigma M_{\Delta} \vec{F} = 0$ يكون الجسم في حركة دوران إذا كان قابلاً للدوران حول محور ثابت.(ت) صحيح ، يعتبر الشرطان $\Sigma \vec{F} = \vec{0}$ و $\Sigma M_{\Delta} \vec{F} = 0$ لازمين لتحقيق توازن جسيم صلب .**تمرين رقم 2 ص 74 من الكتاب المدرسي مرشدي في الفيزياء والكيمياء**

أجب عن التساؤلات التالية :

(أ) لماذا يوضع مقبض الباب أو النافذة بعيداً عن المحور المار من المفصلات ؟

(ب) لماذا يجب فتح المقص حتى أقصاه لقطع ورق مقوى ؟

الإجابة

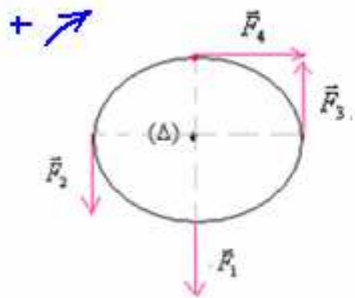
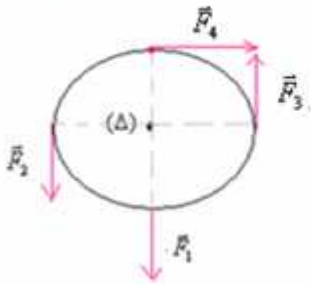
(أ) يوضع مقبض الباب أو النافذة بعيداً عن المحور المار من المفصلات لأنه كلما كانت المسافة كبيرة كلما كان عزم القوة كبيراً.

(ب) يجب فتح المقص حتى أقصاه لقطع ورق مقوى لتغيير اتجاه القوة المطبقة من طرف الأصابع على المقص لأن عزم قوة لا يتوقف على شدة هذه القوة فقط بل على اتجاهها أيضاً وكلما تم فتح المقص كلما تغير اتجاه القوة و ازداد عزمها.

تمرين رقم 3 ص 74 من الكتاب المدرسي مرشدي في الفيزياء والكيمياءنطبق على قرص شعاعه $R = 20cm$ وقابل للدوران حول محور أفقي ثابت (Δ) يمر من مركزه ، أربع قوى $\vec{F}_1, \vec{F}_2, \vec{F}_3, \vec{F}_4$ في نفسالمستوى الرأسى مع القرص حيث $F_1 = F_2 = F_3 = 5N$ و $F_4 = 10N$.1- أحسب عزم كل قوة بالنسبة للمحور (Δ) .

2- أحسب المجموع الجبري لعزوم القوى المطبقة على القرص .

3- هل القرص في توازن ؟ علل جوابك.

**الإجابة**

1- نختار منحنى موجباً للدوران وهو منحنى دوران عقارب الساعة .

 $M_{F_i/\Delta} = 0$ لأن خط تأثيرها يتقاطع مع محور الدوران.

$$M_{F_1/\Delta} = -F_1 \cdot R = -5N \times 0,2m = -1 \text{ Nm}$$

$$M_{F_2/\Delta} = -F_2 \cdot R = -5N \times 0,2m = -1 \text{ Nm}$$

$$M_{F_4/\Delta} = +F_4 \cdot R = +10N \times 0,2m = +2 \text{ Nm}$$

2- المجموع الجبري لعزوم القوى المطبقة على القرص :

$$\Sigma M_{\Delta} \vec{F} = M_{\Delta} \vec{F}_1 + M_{\Delta} \vec{F}_2 + M_{\Delta} \vec{F}_3 + M_{\Delta} \vec{F}_4 = 0 - 1 - 1 + 2 = 0$$

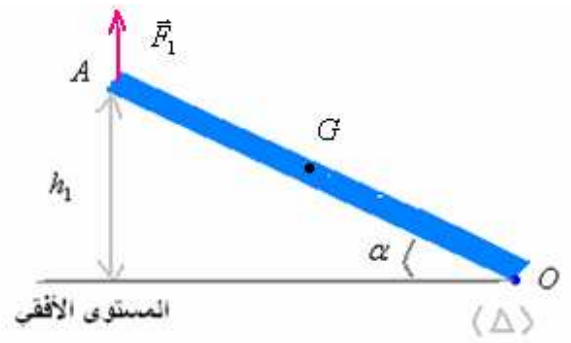
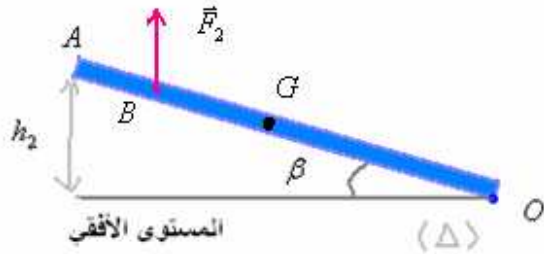
عليه منعدم.

تمرين رقم 4 ص 74 من الكتاب المدرسي مرشدي في الفيزياء والكيمياء

لرفع طرف عارضة متجانسة OA كتلتها m وطولها $OA = L$ عن سطح الأرض ، يطبق عامل في محاولة أولى قوة \vec{F}_1 عند الطرف A للعارضة فيرتفع الطرف إلى مسافة $h_1 = 60cm$ عن سطح الأرض وتكون العارضة عند التوازن زاوية $\alpha = 60^\circ$ مع المستوى الأفقي لسطح

الأرض . (شكل 1). وفي محاولة ثانية يطبق العامل القوة \vec{F}_2 عند نقطة B من العارضة توجد على المسافة $OB = \frac{3}{4}OA$ من نقطة الارتكاز

O فيرتفع الطرف A بعلو h_2 عن سطح الأرض (شكل 2) ، وتكون بذلك العارضة OA زاوية $\beta = 30^\circ$ مع المستوى الأفقي .



- 1- بالنسبة للمحاولة الأولى :
- 1-1- أجرد القوى المطبقة على العارضة OA عند التوازن. صنف هذه القوى إلى قوى تماس وقوى عن بعد.
- 2-1- أعط تعابير عزوم هذه القوى بالنسبة لمحور (Δ) أفقي يمر من نقطة الارتكاز O.
- 3-1- أثبت العلاقة $F_1 = \frac{P}{2}$ حيث P شدة وزن العارضة. ماذا تستنتج ؟
- 2- بالنسبة للمحاولة الثانية :
- 1-2- بتطبيق مبرهنة العزوم أوجد العلاقة بين F_2 و P. ماذا تستنتج.
- 2-2- احسب قيمة الارتفاع h_2 .

الإجابة

1- بالنسبة للمحاولة الأولى :

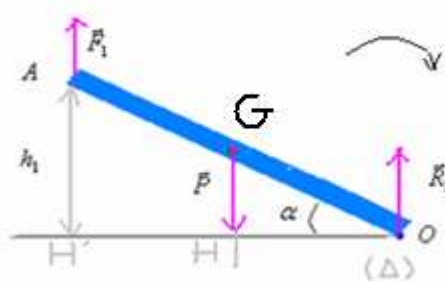
1-1- القوى المطبقة على العارضة OA عند التوازن :

\bar{P} : وزن العارضة . وهي قوة عن بعد.

\bar{F}_1 : القوة المطبقة من طرف العامل على العارضة في النقطة A . وهي قوة تماس.

\bar{R}_1 : القوة المطبقة من طرف الأرض على العارضة في النقطة O . وهي قوة تماس.

انظر الشكل :



2-1- تعابير عزوم هذه القوى بالنسبة لمحور (Δ) الأفقي الذي يمر من نقطة الارتكاز O.

لأن خط تأثيرها يتقاطع مع محور الدوران. $M_{\Delta} \bar{R}_1 = 0$

لأن $OG = \frac{L}{2}$ مع $\cos \alpha = \frac{OH}{OG}$: $M_{\Delta} \bar{P} = -P.OH = -P. \frac{L}{2} \cos \alpha$

لأن $OA = L$ مع $\cos \alpha = \frac{OH'}{OA}$: $M_{\Delta} \bar{F}_1 = +F_1.OH' = +F_1.L \cos \alpha$

3-1- بما أن العارضة في توازن عند ما يصبح الطرف A في الارتفاع h_1 . فإن المجموع الجبري لعزوم القوى منعدم .

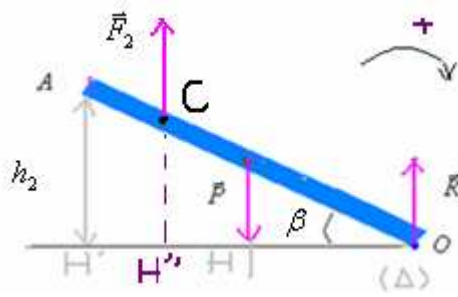
أي : $M_{\Delta} \bar{P} + M_{\Delta} \bar{R}_1 + M_{\Delta} \bar{F}_1 = 0$

أي : $-P. \frac{L}{2} \cos \alpha + 0 + F_1.L \cos \alpha = 0$ أي : $F_1 = \frac{P}{2} \Leftrightarrow F_1.L \cos \alpha = P. \frac{L}{2} \cos \alpha$

نستنتج أنه عندما تصبح شدة القوة مساوية لنصف وزن العارضة يتحقق التوازن.

3- بالنسبة للمحاولة الثانية :

2 يطبق العامل القوة \bar{F}_2 عند نقطة B من العارضة توجد على المسافة $OB = \frac{3}{4}OA$ من نقطة الارتكاز O. والشكل الموافق هو كما يلي :



لأن خط تأثيرها يتقاطع مع محور الدوران.

$$M_{\Delta} \vec{R}_1 = 0$$

$$\text{لأن : } \cos \beta = \frac{OH}{OG} \text{ مع } OG = \frac{L}{2}$$

$$M_{\Delta} \vec{P} = -P.OH = -P.\frac{L}{2} \cos \beta$$

$$OH' = \frac{3}{4} L \cos \beta \Leftarrow$$

$$\text{لأن : } \cos \beta = \frac{OH''}{OC} \text{ مع } OC = \frac{3}{4} L$$

$$M_{\Delta} \vec{F}_2 = +F_2.OH'' = +F_2.\frac{3}{4} L \cos \beta$$

3-1-- بما ان العارضة في توازن عند ما يصبح الطرف A في الارتفاع h_1 . فإن المجموع الجبري لعزوم القوى منعدم .

$$\text{أي : } M_{\Delta} \vec{P} + M_{\Delta} \vec{R}_1 + M_{\Delta} \vec{F}_2 = 0$$

$$F_2 = \frac{2P}{3} \Leftarrow F_2.\frac{3}{4} L \cos \beta = P.\frac{L}{2} \cos \beta \Leftarrow -P.\frac{L}{2} \cos \beta + 0 + F_2.\frac{3}{4} L \cos \beta + 0$$

كلما اقتربنا من محور الدوران كلما ازدادت شدة القوة التي يجب أن يطبقها العامل.

$$3-2 \text{ لدينا : } \sin \alpha = \frac{h_1}{L} \Leftarrow L = \frac{h_1}{\sin \alpha}$$

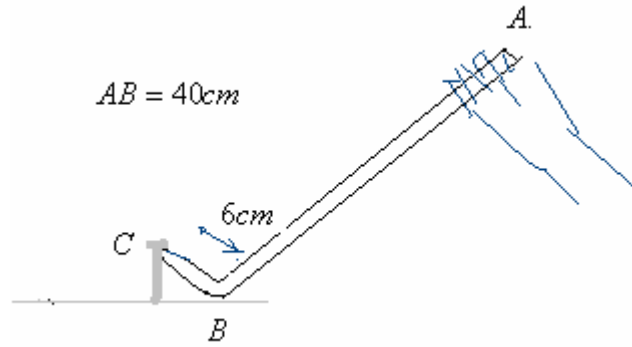
$$h_2 = L \sin \beta = \frac{h_1 \sin \beta}{\sin \alpha} = \frac{60 \sin 30}{\sin 60} \approx 34.6 \text{ cm} \Leftarrow \sin \beta = \frac{h_2}{L}$$

تمرين رقم 5 ص 74 من الكتاب المدرسي مرشدي في الفيزياء والكيمياء

لخلع مسمار منحرف في قطعة خشبية ، يطبق العامل قوة \vec{F} شدتها $10N$ في نقطة A من ذراع عتلة مكوعة ب 90° (ملقط) حيث يرتكز الجزء المكوع على سطح القطعة في نقطة B تسمى نقطة الارتكاز ، وتمثل نقطة تأثير العتلة على المسمار . (نهمل وزن العتلة) .

1- اوجد القوى المطبقة على العتلة .

2- بتطبيق الشرط الثاني لتوازن جسم صلب ، احسب شدة القوة $\vec{F}_{C/L}$ المقرونة بتأثير المسمار على العتلة .



الإجابة

1- اوجد القوى المطبقة على العتلة .

$\vec{F}_{C/L}$: القوة المقرونة بتأثير المسمار على العتلة .

\vec{F} : القوة المطبقة من طرف العامل على العتلة .

\vec{R} : القوة المطبقة من طرف الطاولة على العتلة في نقطة الارتكاز . انظر الشكل .

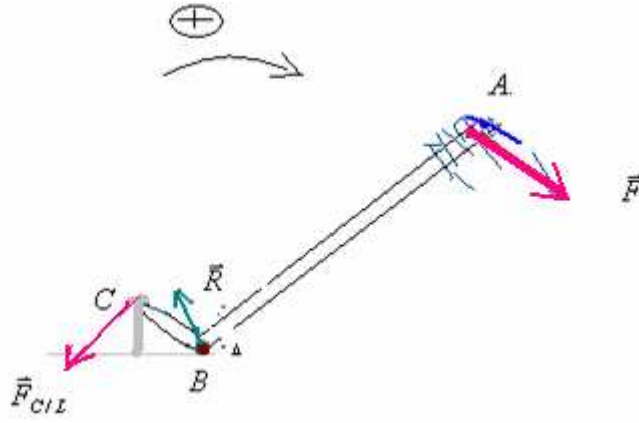
$$\Sigma M_{\Delta} \vec{F} = 0$$

2- العتلة في توازن \Leftarrow

$$M_{\Delta} \vec{F}_{C/L} + M_{\Delta} \vec{F} + M_{\Delta} \vec{R} = 0$$

$$AB = 40\text{cm}$$

$$CB = 6\text{cm}$$



$$M_{\Delta} \vec{R} = 0$$

$$M_{\Delta} \vec{F} = +F \cdot AB$$

$$M_{\Delta} \vec{F}_{C/L} = -F_{C/L} \cdot CB$$

العلاقة $M_{\Delta} \vec{F}_{C/L} + M_{\Delta} \vec{F} + M_{\Delta} \vec{R} = 0$ تصبح :

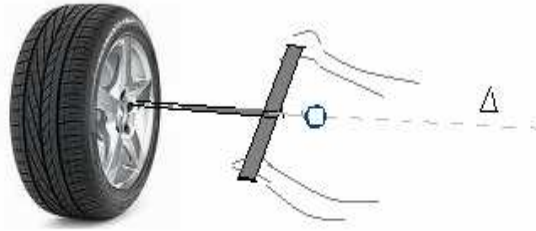
$$F \cdot AB + 0 = F_{C/L} \cdot CB \Leftrightarrow -F_{C/L} \cdot CB + F \cdot AB + 0 = 0$$

$$F_{C/L} = \frac{F \cdot AB}{CB} = \frac{10\text{N} \cdot 0,40\text{m}}{0,06\text{m}} \approx 66,7\text{N} \quad \text{ومنه :}$$

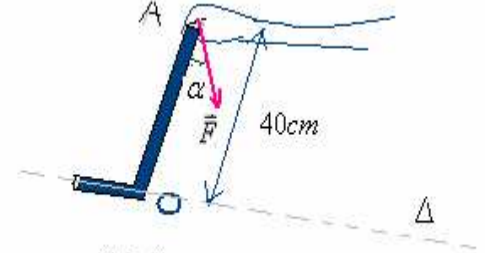
تمرين رقم 6 ص 74 من الكتاب المدرسي مرشدي في الفيزياء والكيمياء

لفتح لولب عجلة سيارة يستعمل الميكانيكي أحد المفتاحين التاليين :

- مفتاح في شكل عارضة متينة OA كتلتها مهملة مكوعة ب 90° (شكل 1).
- ويكفي أن يطبق الميكانيكي قوة \vec{F} في النقطة A من يد المفتاح ليدور اللولب .
- مفتاح في شكل ذراعين متطابقين متقاطعين $croisé$ كتلتهم مهملة . وفي
- هذه الحالة يطبق الميكانيكي مزدوجة قوتين لفتح اللولب . (شكل 2).



(شكل 2)



(شكل 1)

1- في حالة استعمال المفتاح الأول (شكل 1).

1-1: اوجد القوى المطبقة على المفتاح.

2-2: احسب عزم القوة \vec{F} بالنسبة لمحور دوران اللولب (Δ) عند توازن المفتاح (يعتبر P مهملاً أمام F) حيث

$$F = 1250\text{N} \quad \text{و} \quad \alpha = 30^\circ$$

3-1: عندما يطبق الميكانيكي القوة \vec{F} ، يطبق المفتاح بدوره مزدوجة قوتين شدتها المشتركة $2,10^4\text{N}$ ، احسب عزم مزدوجة القوتين

المطبقتين على لولب قطره $d = 2,5\text{cm}$.

2- في حالة استعمال المفتاح الثاني (شكل 2) .

1-2: اوجد القوى المطبقة على المفتاح.

2-2: أعط تعبير M_{Δ} عزم مزدوجة القوتين (\vec{F}_1, \vec{F}_2) المطبقتين على الذراع AB للمفتاح (نضع $AB = d$) بالنسبة للمحور Δ

3-2: عند توازن المفتاح ، أوجد شدة القوة \vec{F} المشتركة لقوتي المزدوجة (\vec{F}_1, \vec{F}_2) في حالة $M_{\Delta} = 12 \cdot 10^3\text{N.m}$

الإجابة

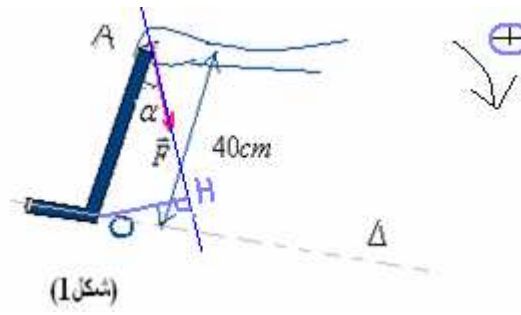
1- في حالة استعمال المفتاح الأول (شكل 1).

1-1: اوجد القوى المطبقة على المفتاح:

\vec{F} : القوة المطبقة من طرف الميكانيكي فقط لأن (P مهملاً أمام F)

(\vec{F}_1, \vec{F}_2) مزدوجة القوتين المطبقة من طرف المفتاح . مقاومة.

\vec{R} : تأثير محور الدوران على المفتاح . عزمها منعدم .

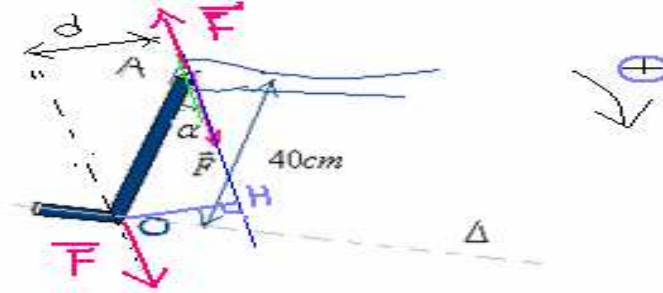


(شكل 1)

2-1: عزم القوة \vec{F} بالنسبة لمحور دوران اللولب (Δ) عند توازن المفتاح

$$M_{\vec{F}} = +F.OH = +F.OA.\sin \alpha = +1250N.0,4m.\sin 30 = 250N.m$$

3-1: عزم مزدوجة القوتين المطبقتين على لولب قطره $d = 2,5cm$.



$$M_{\Delta} = -F.d = -F.OA.\sin \alpha = -2.10^4 N.m.2,5.10^{-2} m.0,5 = -250N.m$$

2- في حالة استعمال المفتاح الثاني (شكل 2).

1-2: القوى المطبقة على المفتاح.

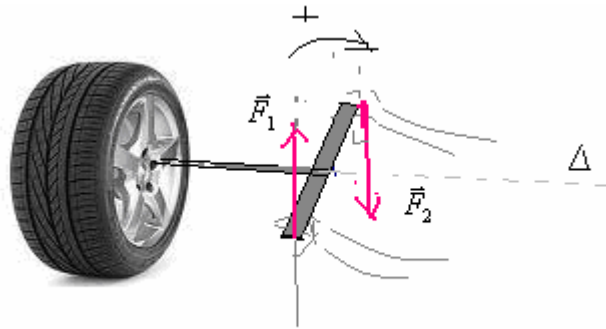
-المزدوجة (\vec{F}_1, \vec{F}_2) المطبقة من طرف الميكانيكي.

\vec{R} : تأثير محور الدوران على المفتاح. عزمها منعدم.

2-2: تعبير M_{Δ} عزم مزدوجة القوتين (\vec{F}_1, \vec{F}_2) المطبقتين على الذراع AB للمفتاح (نضع $AB = d$) بالنسبة للمحور Δ

$$M_{\vec{F}} = +F.d = +F.d$$

3-2- عند توازن المفتاح، شدة القوة \vec{F} المشتركة لقوتي المزدوجة (\vec{F}_1, \vec{F}_2) في حالة $M_{\Delta} = 12.10^3 N.m$



(شكل 2).

$$M_{\Delta} = F.d = 12.10^3 N.m$$

$$F = \frac{M_{\Delta}}{d} = \frac{12.10^3 Nm}{2,5.10^{-2} m} = 48.10^4 N$$

تمرين رقم 7 ص 75 من الكتاب المدرسي مرشدي في الفيزياء والكيمياء

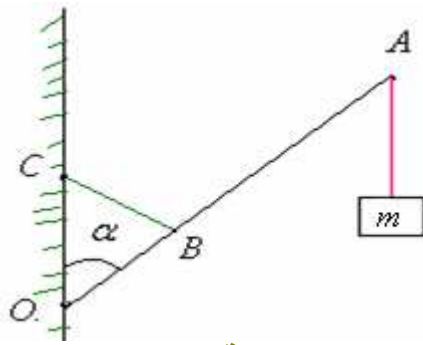
نعتبر عارضة متجانسة (OA) طولها $L = 1,20m$ وكتلتها $M = 2Kg$ قابلة للدوران حول محور (Δ) أفقي يمر من طرفها O . نعلق

بواسطة خيط كتلته مهملة في النقطة A جسما صلبا (S) كتلته $m = 3Kg$ ، ونثبت في نقطة B توجد على مسافة $OB = \frac{L}{4}$ من الطرف O

للعارضة حبلًا حديديا (BC) ثبت طرفه الثاني بجدار رأسي حيث يبقى عموديا على العارضة. نعطي $g = 10N/Kg$ توجد العارضة والحبل الحديدي والخيط عند التوازن في نفس المستوى الرأسي، حيث $\alpha = 30^\circ$.

1- أوجد القوى المطبقة على العارضة (OA).

2- بتطبيق مبرهنة العزوم ، أوجد شدة القوة \vec{F} المطبقة من طرف الحبل (BC) على العارضة (OA).



الإجابة

1- جرد القوى المطبقة على العارضة (OA).

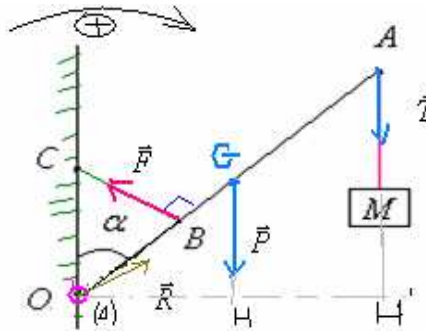
\vec{T} : القوة المطبقة من طرف الخيط في النقطة A . (من خلال شرط توازن الجسم المعلق : $T = P = m.g$).

\vec{P} : وزن العارضة .

\vec{F} : القوة المطبقة من طرف الحبل الحديدي .

\vec{R} : تأثير محور الدوران في النقطة O .

2- مبرهنة العزوم : بما أن العارضة في حالة توازن : $\Sigma M_{\Delta} \vec{F} = 0$ أي : $M_{\Delta} \vec{F} + M_{\Delta} \vec{P} + M_{\Delta} \vec{T} + M_{\Delta} \vec{R} = 0$ (1)



مع $T = m.g$ ووزن العارضة : $P = M.g$

$$\left\{ \begin{array}{l} M_{\Delta} \vec{F} = -F.OB = -F.\frac{L}{4} \\ M_{\Delta} \vec{P} = +P.OH = +P.\frac{L}{2} \sin \alpha = +M.g.\frac{L}{2} \sin \alpha \\ M_{\Delta} \vec{T} = +T.OH' = +T.L \sin \alpha = +m.g.L \sin \alpha \\ M_{\Delta} \vec{R} = 0 \end{array} \right.$$

إذن العلاقة (1) تصبح :

$$-F.\frac{L}{4} + +M.g.\frac{L}{2} \sin \alpha + m.g.L \sin \alpha + 0 = 0$$

$$\text{أي : } \frac{F}{4} = \frac{M.g}{2} \sin \alpha + m.g.\sin \alpha$$

$$F = 4.\left(\frac{M.g}{2} \sin \alpha + m.g.\sin \alpha\right) = g \sin \alpha.(2.M + 4m)$$

$$F = g \sin \alpha.(2.M + 4m)$$

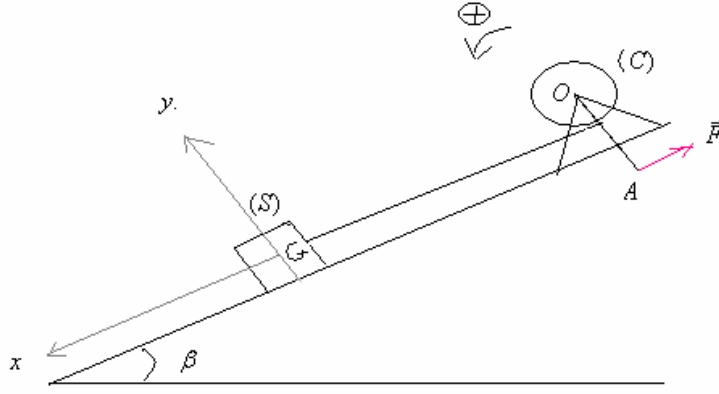
$$\text{ت.ع: } F = 10N / Kg.\sin 30(4 + 12) = 80N$$

تمرين رقم 8 ص 75 من الكتاب المدرسي مرشدي في الفيزياء والكيمياء

يمثل الشكل التالي مجموعة مكونة من :

- جسم صلب متجانس (S) كتلته $m = 0,5Kg$ (موضوع فوق مستوى مائل بزاوية $\beta = 30^\circ$ بالنسبة للمستوى الأفقي .
- ملفاف يتكون من أسطوانة (C) كتلتها M وشعاعها $r = 8cm$ قابلة للدوران بدون احتكاك حول محور أفقي يمر من النقطة O ، ومدورة كتلتها مهملة وطولها $L = OA = 50cm$.

خيوط ربط كتلته مهملة وغير قابل للامتداد وموازي للمستوى المائل .
 لتحقيق توازن المجموعة نطبق عموديا على طرف المدورة قوة \vec{F} .



نعتبر ان التماس بين (S) والمستوى المائل يتم بدون احتكاك .

- 1- اجرد القوى المطبقة على الجسم (S) .
 - 2- اجرد القوى المطبقة على الملفاف .
 - 3- حدد على التوالي شروط توازن كل من الجسم (S) والملفاف .
 - 4- باستعمال الطريقة التحليلية (استعن بالمعلم الممنظم (Gx, Gy) .
- 1-4- أوجد صيغة T شدة توتر الخيط بدلالة β ، g و m .
- 2-4- أوجد صيغة R شدة القوة المطبقة من طرف المستوى المائل على (S) . احسب قيمة R .
- 5- بتطبيق الشرط الثاني للتوازن على المجموعة (الملفاف + المدورة) أثبت العلاقة التالية : $F = \frac{m \cdot g \cdot r \cdot \sin \beta}{L}$. احسب قيمة F .

الإجابة

1- القوى المطبقة على الجسم (S) .

\vec{P} : وزن الجسم (S)

\vec{R} : تأثير سطح التماس .

\vec{T} : توتر الخيط .

2- القوى المطبقة على الملفاف .

\vec{F} : القوة المطبقة على الدولاب .

\vec{T}' : توتر الخيط .

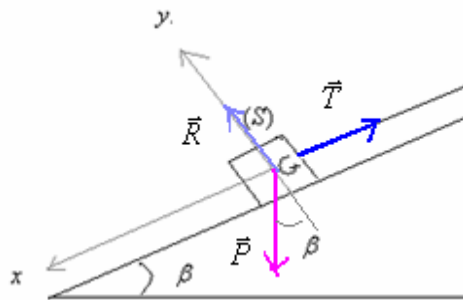
\vec{P}' : وزن الدولاب .

\vec{R}' : تأثير محور الدوران .

3- شرط توازن الدولاب : $\Sigma M_{\Delta} \vec{F} = 0$

شرط توازن الجسم (S) : $\Sigma \vec{F} = \vec{0}$

4- 1-4- من خلال شرط توازن الجسم (S) : $\Sigma \vec{F} = \vec{0}$



أي : شرط توازن الجسم (S) : $\vec{P} + \vec{R} + \vec{T} = \vec{0}$

بالاسقاط على المحور (o, x) : $0 = P \sin \beta + 0 - T$

ت ع $T = 0,5 \text{ kg} \cdot 10 \text{ N / Kg} \cdot \sin 30 = 2,5 \text{ N}$

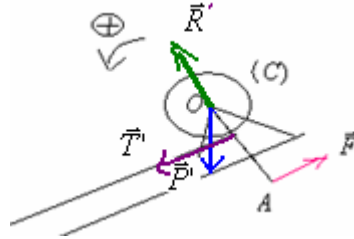
2-4- باسقاط العلاقة السابقة على المحور (o, y)

$$R = m.g \cos \beta \Leftrightarrow -P \cos \beta + R + 0 = 0$$

$$R = 0,5kg \cdot 10N / Kg \cos 30 \approx 4,3N$$

ت.ع.

5- بتطبيق الشرط الثاني للتوازن على المجموعة (الملفان + المدورة): $\Sigma M_{\Delta} \vec{F} = 0$



(أ) أي : $M_{\Delta} \vec{P}' + M_{\Delta} \vec{T}' + M_{\Delta} \vec{R}' + M_{\Delta} \vec{F} = 0$

$$\begin{cases} M_{\Delta} \vec{P}' = 0 \\ M_{\Delta} \vec{T}' = -T.r \\ M_{\Delta} \vec{R}' = 0 \\ M_{\Delta} \vec{F} = +F.L \end{cases}$$

العلاقة (أ) تصبح : $0 - Tr + 0 + F.L = 0 \Leftrightarrow F.L = Tr \Leftrightarrow F = \frac{T.r}{L}$ مع $T = mg \sin \beta$

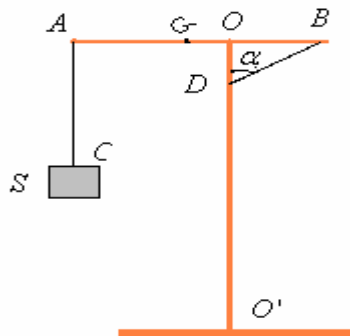
$$F = \frac{m.g.r \sin \beta}{L} \Leftrightarrow$$

$$F = \frac{0,5kg \cdot 10N / kg \cdot 0,08m \cdot \sin 30}{0,5m} = 0,4N \quad \text{ت.ع.}$$

تمرين رقم 9 ص 75 من الكتاب المدرسي مرشدي في الفيزياء والكيمياء

يمثل الشكل جانبه تبيانه مبسطة لرافعة في حالة توازن تتكون من:

- عارضة متجانسة AB طولها L ، كتلتها $M = 103Kg$ ، قابلة للدوران حول المحور (Δ) المار من النقطة O ، والمتعامد مع AB .
- عمود متجانس OO' حيث : $OB = OD = \frac{L}{3}$.
- جسم S صلب كتلته $m = 200Kg$ معلق بواسطة حبل متين كتلته مهملة .



1- اوجد القوى المطبقة على العارضة AB .

2- بتطبيق الشرط الثاني للتوازن ، بين أن شدة توتر الحبل BD تكتب على الشكل التالي : $T' = \frac{g}{\cos \alpha} (2m + \frac{M}{2})$. ثم احسب

نعطي T'
 $g = 10N / Kg$

3- مثل الخط المضلعي للقوى المطبقة على AB ، ثم استنتج مميزات القوة \vec{R} المطبقة من طرف العمود OO' على العارضة AB .

السلم : $1cm \rightarrow 2.10^3 N$

الإجابة

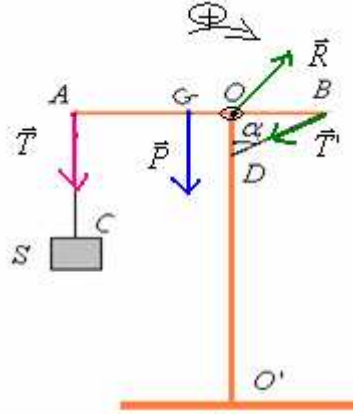
1- القوى المطبقة على العارضة AB .

\vec{T} : توتر الخيط AC .

\vec{T}' : توتر الحبل BD .

\vec{P} : وزن العارضة AB .

\vec{R} : تأثير محور الدوران في النقطة O .



2- بتطبيق الشرط الثاني للتوازن على العارضة AB : $\Sigma M_{\Delta} \vec{F} = 0$

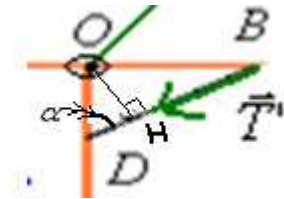
$$(ب) \quad M_{\Delta} \vec{P} + M_{\Delta} \vec{T} + M_{\Delta} \vec{T}' + M_{\Delta} \vec{R} = 0$$

$$M_{\Delta} \vec{P}' = +P.OG = -P.\frac{L}{6}$$

$$M_{\Delta} \vec{T} = -T.OA = -T.\frac{2L}{3}$$

$$M_{\Delta} \vec{R} = 0$$

$$M_{\Delta} \vec{T}' = +T'.OH = +T'.\frac{L}{3}.\sin \alpha$$



$$OH = OD.\cos \alpha = \frac{L}{3}\cos \alpha \Leftrightarrow \cos \alpha = \frac{OH}{OD}$$

العلاقة (ب) تصبح كما يلي :

$$-P.\frac{1}{2} - 2T.T' + T'..\cos \alpha = 0 \Leftrightarrow \frac{L}{3} \text{ نختزل ب} \quad -P.\frac{L}{6} - T.\frac{2L}{3} + T'..\frac{L}{3}.\cos \alpha + 0 = 0$$

$$\Leftrightarrow -Mg.\frac{1}{2} - 2.mg.T' + T'..\cos \alpha = 0 \quad \text{ولدينا } T = m.g \text{ من خلال شرط توازن الجسم } S$$

$$T' = \frac{g}{\cos \alpha} \left(2.m + \frac{M}{2} \right) : \quad \text{ومنه } T'.\cos \alpha = 2.mg + \frac{Mg}{2}$$

$$\alpha = 45^\circ \quad \Leftrightarrow \quad OB = OD = \frac{L}{3} : \quad \text{لان } \operatorname{tg} \alpha = \frac{OB}{OD} = 1$$

$$ت ع : \quad T' = \frac{g}{\cos \alpha} \left(2.m + \frac{M}{2} \right) = \frac{10N / Kg}{\cos 45} (400 + 500) \approx 12728N$$

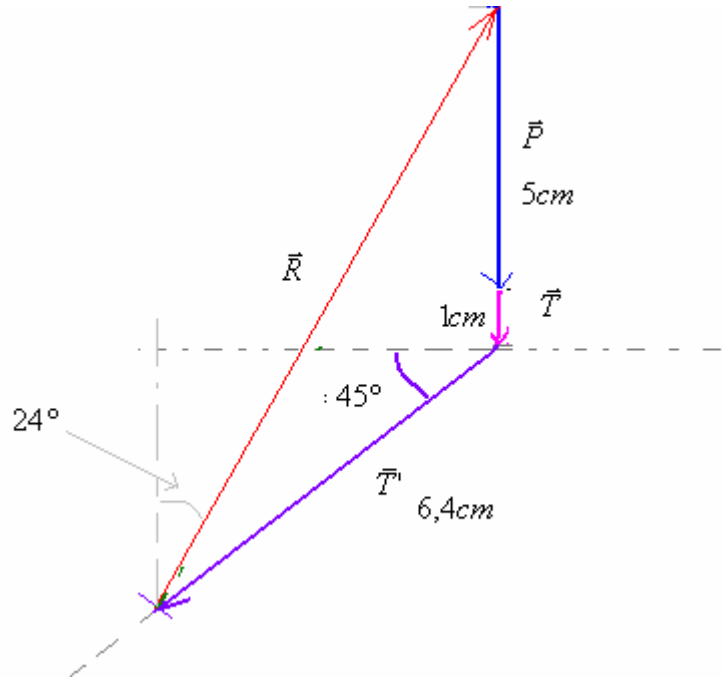
2- لدينا : $T' = 12728N$

$$P = 10^4 N$$

: $\alpha = 45^\circ$ باستعمال السلم $1cm \rightarrow 2.10^3 N$ ويرسم الخط المضلعي :

$$T = 2.10^3 N$$

$$1\text{cm} \leftarrow \vec{T} \quad , \quad 6,4\text{cm} \leftarrow \vec{T}' \quad , \quad 5\text{cm} \leftarrow \vec{P}$$



نحصل على طول المتجهة \vec{R} ، $\approx 114\text{cm}$ وباعتبار السلم فإن شدة القوة \vec{R} هي : $R \approx 22800\text{N}$ وتكون زاوية 24° مع الأفقي.
وباستعمال الطريقة التحليلية نحصل على $R \approx 22847\text{N}$

Sbiro Abdelkrim Lycée Agricole Oulad-Taima région D'Agadir Royaume du Maroc
sbiabdou@yahoo.fr

لا تنسونا بأدعيتكم الصالحة ونسأل الله لكم التوفيق.